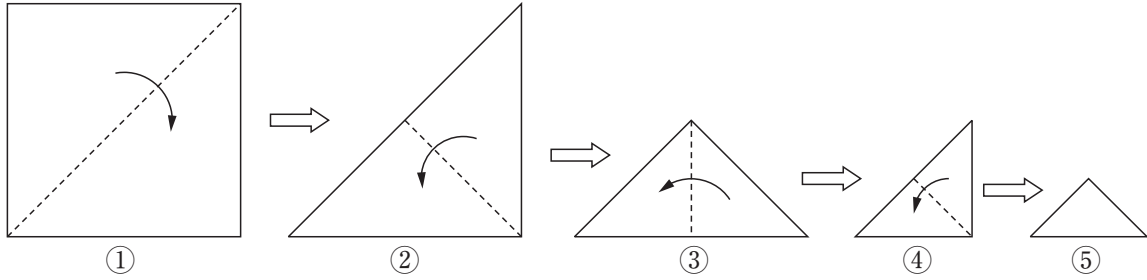


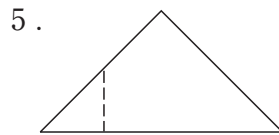
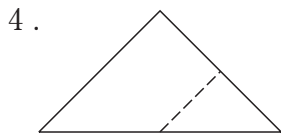
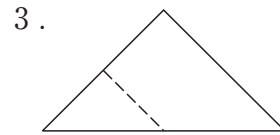
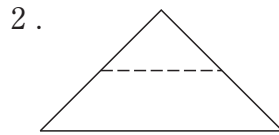
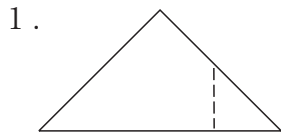
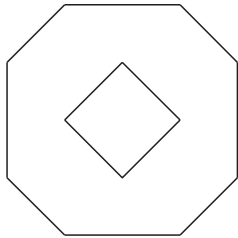
基礎能力試験（択一式）  
【短大卒業程度】

〔例題1〕 正方形の紙を，図Ⅰのように①～⑤の順番に点線に沿って谷折りにしていく。折り曲げた⑤の紙を，ある直線に沿ってはさみで切り，切り分けられた一方を広げたところ，図Ⅱのようになった。⑤においてははさみを入れた直線を破線で示したものはどれか。

図Ⅰ



図Ⅱ



【正答3】